

BẢNG TÓM TẮT CÔNG THỨC TOÁN 12

CÔNG THỨC LŨY THỪA

Cho các số dương a, b và $m, n \in \mathbb{R}$. Ta có:

<ul style="list-style-type: none"> ▪ $a^0 = 1$ 	<ul style="list-style-type: none"> ▪ $\underbrace{a^n = a.a.\dots.a}_{n \text{ thừa số}}$ với $n \in \mathbb{N}^*$ 	<ul style="list-style-type: none"> ▪ $a^{-n} = \frac{1}{a^n}$
<ul style="list-style-type: none"> ▪ $(a^m)^n = a^{mn} = (a^n)^m$ 	<ul style="list-style-type: none"> ▪ $a^m . a^n = a^{m+n}$ 	<ul style="list-style-type: none"> ▪ $\frac{a^m}{a^n} = a^{m-n}$
<ul style="list-style-type: none"> ▪ $a^n b^n = (ab)^n$ 	<ul style="list-style-type: none"> ▪ $\frac{a^n}{b^n} = \left(\frac{a}{b}\right)^n$ 	<ul style="list-style-type: none"> ▪ $\sqrt[n]{a^n} = a^{\frac{n}{n}}$ <ul style="list-style-type: none"> * $\sqrt{a} = a^{\frac{1}{2}}$ * $\sqrt[3]{a} = a^{\frac{1}{3}}$

CÔNG THỨC LOGARIT

Cho các số $a, b > 0, a \neq 1$. Ta có:

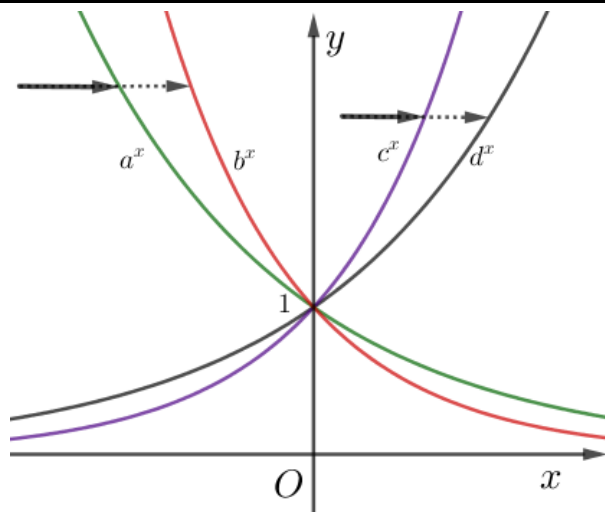
<ul style="list-style-type: none"> ▪ $\log_a b = \alpha \Leftrightarrow a^\alpha = b$ 	<ul style="list-style-type: none"> ▪ $\lg b = \log b = \log_{10} b$ 	<ul style="list-style-type: none"> ▪ $\ln b = \log_e b$
<ul style="list-style-type: none"> ▪ $\log_a 1 = 0$ 	<ul style="list-style-type: none"> ▪ $\log_a a = 1$ 	<ul style="list-style-type: none"> ▪ $\log_a a^b = b$
<ul style="list-style-type: none"> ▪ $\log_{a^m} b = \frac{1}{m} \log_a b$ 	<ul style="list-style-type: none"> ▪ $\log_a b^n = n \log_a b$ 	<ul style="list-style-type: none"> ▪ $\log_{a^m} b^n = \frac{n}{m} \log_a b$
<ul style="list-style-type: none"> ▪ $\log_a (bc) = \log_a b + \log_a c$ 	<ul style="list-style-type: none"> ▪ $\log_a \left(\frac{b}{c}\right) = \log_a b - \log_a c$ 	<ul style="list-style-type: none"> ▪ $\begin{cases} a^{\log_a b} = b \\ a^{\log_b c} = c^{\log_b a} \end{cases}$
<ul style="list-style-type: none"> ▪ $\log_a b . \log_b c = \log_a c$ 	<ul style="list-style-type: none"> ▪ $\frac{\log_a c}{\log_a b} = \log_b c$ 	<ul style="list-style-type: none"> ▪ $\log_a b = \frac{1}{\log_b a}$

HÀM SỐ LŨY THỪA - MŨ - LOGARIT

HÀM LŨY THỪA	HÀM SỐ MŨ	HÀM SỐ LOGARIT
<ul style="list-style-type: none"> ▪ Dạng: $\begin{cases} y = x^\alpha \\ y = u^\alpha \end{cases}$ với u là đa thức đại số. ▪ Tập xác định: Nếu $\alpha \in \mathbb{Z}^+ \xrightarrow{DK} u \in \mathbb{R}$. Nếu $\alpha \in \mathbb{Z}^- \xrightarrow{DK} u \neq 0$. Nếu $\alpha \notin \mathbb{Z} \xrightarrow{DK} u > 0$. ▪ Đạo hàm: $\begin{cases} y = x^\alpha \longrightarrow y' = \alpha x^{\alpha-1} \\ y = u^\alpha \longrightarrow y' = \alpha u^{\alpha-1} \cdot u' \end{cases}$ 	<ul style="list-style-type: none"> ▪ Dạng: $\begin{cases} y = a^x \\ y = a^u \end{cases}$ với $\begin{cases} a > 0 \\ a \neq 1 \end{cases}$. ▪ Tập xác định: $D = \mathbb{R}$. ▪ Đạo hàm: $\begin{cases} y = a^x \longrightarrow y' = a^x \ln a \\ y = a^u \longrightarrow y' = a^u \ln a \cdot u' \end{cases}$ <p>Đặc biệt: $\begin{cases} (e^x)' = e^x \\ (e^u)' = e^u \cdot u' \end{cases}$</p> ▪ Sự biến thiên: $y = a^x$ Nếu $a > 1$ thì hàm đồng biến trên \mathbb{R}. Nếu $0 < a < 1$ thì hàm nghịch biến trên \mathbb{R}. 	<ul style="list-style-type: none"> ▪ Dạng: $\begin{cases} y = \log_a x \\ y = \log_a u \end{cases}$ với $\begin{cases} a > 0 \\ a \neq 1 \end{cases}$. ▪ Đặc biệt: $a = e \longrightarrow y = \ln x$; $a = 10 \longrightarrow y = \log x = \lg x$. ▪ Điều kiện xác định: $u > 0$. ▪ Đạo hàm: $\begin{cases} y = \log_a x \longrightarrow y' = \frac{1}{x \ln a} \\ y = \log_a u \longrightarrow y' = \frac{u'}{u \ln a} \end{cases}$ <p>Đặc biệt: $\begin{cases} (\ln x)' = \frac{1}{x} \\ (\ln u)' = \frac{u'}{u} \end{cases}$</p> ▪ Sự biến thiên: $y = \log_a x$ Nếu $a > 1$: hàm đồng biến trên $(0; +\infty)$. Nếu $0 < a < 1$: hàm nghịch biến trên $(0; +\infty)$

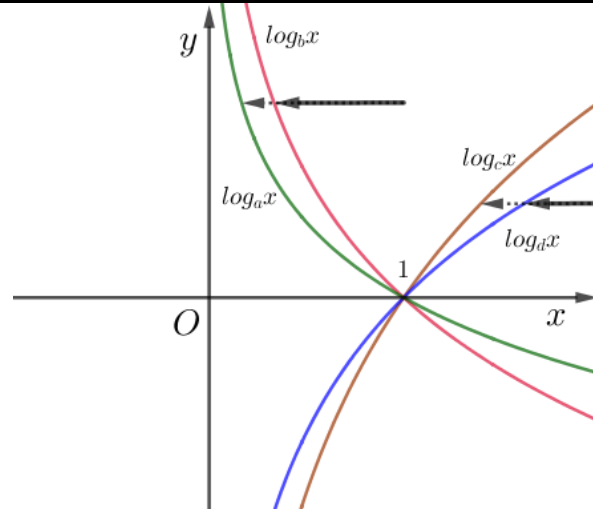
ĐỒ THỊ HÀM MŨ VÀ HÀM LOGARIT

ĐỒ THỊ HÀM SỐ MŨ



- Ta thấy: $a^x \downarrow \Rightarrow 0 < a < 1$; $b^x \downarrow \Rightarrow 0 < b < 1$.
- Ta thấy: $c^x \uparrow \Rightarrow c > 1$; $d^x \uparrow \Rightarrow d > 1$.
- **So sánh a với b:** Đứng trên cao, bắn mũi tên từ **trái sang phải**, trùng a^x trước nên $a > b$.
- **So sánh c với d:** Đứng trên cao, bắn mũi tên từ **trái sang phải**, trùng c^x trước nên $c > d$.
- Vậy $0 < b < a < 1 < d < c$.

ĐỒ THỊ HÀM SỐ LOGARIT



- Ta thấy: $\log_a x \downarrow \Rightarrow 0 < a < 1$; $\log_b x \downarrow \Rightarrow 0 < b < 1$.
- Ta thấy: $\log_c x \uparrow \Rightarrow c > 1$; $\log_d x \uparrow \Rightarrow d > 1$.
- **So sánh a với b:** Đứng trên cao, bắn mũi tên từ **phải sang trái**, trùng $\log_b x$ trước: $b > a$.
- **So sánh c với d:** Đứng trên cao, bắn mũi tên từ **phải sang trái**, trùng $\log_d x$ trước: $d > c$.
- Vậy $0 < a < b < 1 < c < d$.

PHƯƠNG TRÌNH MŨ VÀ LOGARIT

Phương trình mũ

- **Dạng cơ bản:** $a^{f(x)} = a^{g(x)} \Leftrightarrow f(x) = g(x)$

- **Dạng logarit hóa:**

$$\begin{cases} a^{f(x)} = b \Leftrightarrow f(x) = \log_a b \\ a^{f(x)} = b^{g(x)} \Leftrightarrow f(x) = g(x) \cdot \log_a b \end{cases}$$

Phương trình Logarit

- **Dạng cơ bản:**
 $\log_a f(x) = \log_a g(x) \Leftrightarrow f(x) = g(x) > 0$

- **Dạng mũ hóa:** $\log_a f(x) = b \Leftrightarrow f(x) = a^b$
(không cần điều kiện)

BẤT PHƯƠNG TRÌNH MŨ VÀ LOGARIT

Bất Phương trình mũ

- **Dạng cơ bản:**

$$\begin{cases} * a^{f(x)} \geq a^{g(x)} \stackrel{a>1}{\Leftrightarrow} f(x) \geq g(x) \\ * a^{f(x)} \geq a^{g(x)} \stackrel{0<a<1}{\Leftrightarrow} f(x) \leq g(x) \end{cases}$$

Bất Phương trình Logarit

- **Dạng cơ bản:**

$$\begin{cases} * \log_a f(x) \geq \log_a g(x) \stackrel{a>1}{\Leftrightarrow} f(x) \geq g(x) > 0 \\ * \log_a f(x) \geq \log_a g(x) \stackrel{0<a<1}{\Leftrightarrow} 0 < f(x) \leq g(x) \end{cases}$$

CÔNG THỨC ĐẠO HÀM

- $k' = 0$
Với k là hằng số

- $(x^\alpha)' = \alpha x^{\alpha-1}$
 $\longrightarrow (u^\alpha)' = \alpha u^{\alpha-1} \cdot u'$

- $(\sqrt{x})' = \frac{1}{2\sqrt{x}}$
 $\longrightarrow (\sqrt{u})' = \frac{u'}{2\sqrt{u}}$

- $\left(\frac{1}{x}\right)' = -\frac{1}{x^2}$
 $\longrightarrow \left(\frac{1}{u}\right)' = -\frac{u'}{u^2}$

- $(e^x)' = e^x$
 $\longrightarrow (e^u)' = e^u \cdot u'$

- $(a^x)' = a^x \ln a$
 $\longrightarrow (a^u)' = a^u \cdot \ln a \cdot u'$

- $(\sin x)' = \cos x$
 $\longrightarrow (\sin u)' = u' \cos u$

- $(\cos x)' = -\sin x$
 $\longrightarrow (\cos u)' = -u' \sin u$

$$\blacksquare (\tan x)' = \frac{1}{\cos^2 x} = 1 + \tan^2 x$$

$$\longrightarrow (\tan u)' = \frac{u'}{\cos^2 u} = u'(1 + \tan^2 u)$$

$$\blacksquare (\cot x)' = -\frac{1}{\sin^2 x} = -(1 + \cot^2 x)$$

$$\longrightarrow (\cot u)' = -\frac{u'}{\sin^2 u} = -u'(1 + \cot^2 u)$$

CÔNG THỨC NGUYÊN HÀM

$$\int f(x)dx = F(x) + C \Leftrightarrow F'(x) = f(x)$$

$$\blacksquare \int k \cdot f(x)dx = k \int f(x)dx$$

$$\blacksquare \int [f(x) \pm g(x)]dx = \int f(x)dx \pm \int g(x)dx$$

$$\blacksquare \int kdx = kx + C$$

$$1) \int kdx = kx + C$$

$$\blacksquare \int 2dx = 2x + C$$

$$\blacksquare \int (-3)dx = -3x + C$$

$$2) \int x^\alpha dx = \frac{x^{\alpha+1}}{\alpha+1} + C$$

$$\blacksquare \int x^3 dx = \frac{x^4}{4} + C$$

$$\blacksquare \int \sqrt{x} dx = \int x^{\frac{1}{2}} dx = \frac{x^{\frac{3}{2}}}{\frac{3}{2}} + C = \frac{2}{3} \sqrt{x^3} + C$$

$$\xrightarrow{MR} \int (ax+b)^\alpha dx = \frac{1}{a} \cdot \frac{(ax+b)^{\alpha+1}}{\alpha+1} + C$$

$$\blacksquare \int (1-2x)^{10} dx = \frac{1}{-2} \cdot \frac{(1-x)^{11}}{11} + C = \frac{(1-x)^{11}}{-22} + C$$

$$3) \int \frac{1}{x} dx = \ln|x| + C \xrightarrow{MR} \int \frac{1}{ax+b} dx = \frac{1}{a} \ln|ax+b| + C$$

$$\blacksquare \int \frac{1}{1-3x} dx = \frac{1}{-3} \ln|1-3x| + C$$

$$4) \int \frac{1}{x^2} dx = -\frac{1}{x} + C \xrightarrow{MR} \int \frac{1}{(ax+b)^2} dx = \frac{1}{a} \cdot \frac{-1}{ax+b} + C$$

$$\blacksquare \int \frac{1}{(2x-3)^2} dx = \frac{1}{2} \cdot \frac{-1}{2x-3} + C = -\frac{1}{4x-6} + C$$

$$\blacksquare \int \left(x^2 + \frac{1}{x} + \frac{1}{x^2} - 10 \right) dx = \frac{x^3}{3} + \ln|x| - \frac{1}{x} - 10x + C$$

$$\blacksquare \int \frac{x^5+1}{x} dx = \int \left(x^4 + \frac{1}{x} \right) dx = \frac{x^5}{5} + \ln|x| + C$$

$$5) \int e^x dx = e^x + C \xrightarrow{MR} \int e^{ax+b} dx = \frac{1}{a} e^{ax+b} + C$$

$$\blacksquare \int e^{-x} dx = \frac{1}{-1} e^{-x} + C = -e^x + C$$

$$6) \int a^x dx = \frac{a^x}{\ln a} + C$$

$$\blacksquare \int 5^x dx = \frac{5^x}{\ln 5} + C$$

$$\blacksquare \int 3^{2x} dx = \int 9^x dx = \frac{9^x}{\ln 9} + C$$

$$\xrightarrow{MR} \int a^{bx+c} dx = \frac{1}{b} \cdot \frac{a^{bx+c}}{\ln a} + C$$

$$\blacksquare \int 3^{2x+5} dx = \frac{1}{2} \cdot \frac{3^{2x+5}}{\ln 3} + C = \frac{3^{2x+5}}{2 \ln 3} + C$$

$$\blacksquare \int (e^{x-1} - 2)e^x dx = \int (e^{2x-1} - 2e^x) dx = \frac{1}{2} e^{2x-1} - 2e^x + C$$

$$\blacksquare \int 2^x \cdot 3^{x-1} dx = \int 2^x \cdot 3^x \cdot \frac{1}{3} dx = \frac{1}{3} \int 6^x dx = \frac{6^x}{3 \ln 6} + C$$

$$7) \int \sin x dx = -\cos x + C$$

$$\xrightarrow{MR} \int \sin(ax+b) dx = -\frac{1}{a} \cos(ax+b) + C$$

$$\blacksquare \int \sin\left(4x - \frac{\pi}{2}\right) dx = -\frac{1}{4} \cos\left(4x - \frac{\pi}{2}\right) + C$$

$a=4; b=-\frac{\pi}{2}$

$$8) \int \cos x dx = \sin x + C$$

$$\xrightarrow{MR} \int \cos(ax+b) dx = \frac{1}{a} \sin(ax+b) + C$$

$$\blacksquare \int \cos\left(\frac{\pi}{3} - x\right) dx = \frac{1}{-1} \sin\left(\frac{\pi}{3} - x\right) + C = -\sin\left(\frac{\pi}{3} - x\right) + C$$

$a=-1; b=\frac{\pi}{3}$

$$\blacksquare \int (3 \sin x - 2 \cos x) dx = -3 \cos x - 2 \sin x + C$$

$$\blacksquare \int \sin^2 x dx = \int \frac{1}{2} (1 - \cos 2x) dx = \frac{1}{2} \left(x - \frac{1}{2} \sin 2x \right) + C$$

(hạ bậc)

$$9) \int \frac{1}{\cos^2 x} dx = \int (1 + \tan^2 x) dx = \tan x + C$$

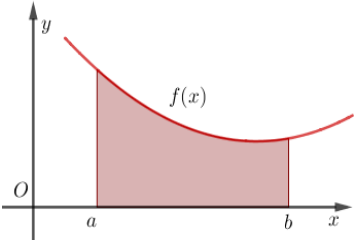
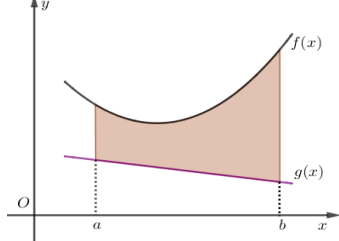
$$\xrightarrow{MR} \int \frac{1}{\cos^2(ax+b)} dx = \frac{1}{a} \tan(ax+b) + C$$

$$\blacksquare \int \frac{1-2\cos^2 x}{\cos^2 x} dx = \int \left(\frac{1}{\cos^2 x} - 2 \right) dx = \tan x - 2x + C$$

$$\blacksquare \int \frac{1}{\cos^2 3x} dx = \frac{1}{3} \tan 3x + C$$

$\xrightarrow{MR} \int [1 + \tan^2(ax+b)] dx = \frac{1}{a} \tan(ax+b) + C$	$\int \left[1 + \tan^2 \underbrace{(\pi - 2x)}_{a=-2; b=\pi} \right] dx = \frac{1}{-2} \tan(\pi - 2x) + C$
10) $\int \frac{1}{\sin^2 x} dx = \int (1 + \cot^2 x) dx = -\cot x + C$	$\int \frac{x \sin^2 x + 1}{\sin^2 x} dx = \int \left(x + \frac{1}{\sin^2 x} \right) dx = \frac{x^2}{2} - \cot x + C$
$\xrightarrow{MR} \int \frac{1}{\sin^2(ax+b)} dx = -\frac{1}{a} \cot(ax+b) + C$	$\int \frac{1}{\sin^2 8x} dx = -\frac{1}{8} \cot 8x + C$
$\xrightarrow{MR} \int [1 + \cot^2(ax+b)] dx = -\frac{1}{a} \cot(ax+b) + C$	$\int [1 + \cot^2 3x] dx = -\frac{1}{3} \cot 3x + C$
$\int \frac{1}{\sin^2 x \cos^2 x} dx = \int \frac{\sin^2 x + \cos^2 x}{\sin^2 x \cos^2 x} dx = \int \left(\frac{1}{\cos^2 x} + \frac{1}{\sin^2 x} \right) dx = \tan x - \cot x + C$	

DIỆN TÍCH VÀ THỂ TÍCH

<p>▪ Hình phẳng giới hạn bởi các đường $y = f(x)$, trục Ox, $x = a$, $x = b$ thì có diện tích:</p> $S = \int_a^b f(x) dx$ 	<p>▪ Hình phẳng giới hạn bởi các đường $y = f(x)$, $y = g(x)$, $x = a$, $x = b$ thì có diện tích:</p> $S = \int_a^b f(x) - g(x) dx$ 
<p>▪ Khi xoay hình phẳng $\begin{cases} y = f(x) \\ x = a, x = b \end{cases}$ quanh Ox, ta được khối trụ tròn có thể tích</p> $V = \pi \int_a^b f^2(x) dx$	<p>▪ Khi xoay hình phẳng $\begin{cases} y = f(x) \\ y = g(x) \\ x = a, x = b \end{cases}$ quanh Ox, ta được khối trụ tròn có thể tích</p> $V = \pi \int_a^b f^2(x) - g^2(x) dx$
<p>▪ Xét hình khối được giới hạn bởi hai mặt phẳng $x = a$, $x = b$. Khi cắt khối này ta được thiết diện có diện tích $S(x)$ (là hàm liên tục trên $[a; b]$). Thể tích khối này trên $[a; b]$ là: $V = \int_a^b S(x) dx$.</p>	

CÔNG THỨC CHUYỂN ĐỘNG

Xét hàm quãng đường $S(t)$, hàm vận tốc $v(t)$ và hàm gia tốc $a(t)$. Ba hàm này sẽ biến thiên theo t .

$S(t) = \int v(t) dt \Leftrightarrow v(t) = S'(t)$	$v(t) = \int a(t) dt \Leftrightarrow a(t) = v'(t)$
--	--

CÔNG THỨC LƯỢNG GIÁC

1. Hệ thức cơ bản:

▪ $\sin^2 \alpha + \cos^2 \alpha = 1$	▪ $\tan \alpha = \frac{\sin \alpha}{\cos \alpha}$	▪ $\cot \alpha = \frac{\cos \alpha}{\sin \alpha}$	▪ $\tan \alpha \cdot \cot \alpha = 1$
▪ $1 + \tan^2 \alpha = \frac{1}{\cos^2 \alpha}$	▪ $1 + \cot^2 \alpha = \frac{1}{\sin^2 \alpha}$	▪ $\begin{cases} \sin(\alpha + k2\pi) = \sin \alpha \\ \cos(\alpha + k2\pi) = \cos \alpha \end{cases}$	▪ $\begin{cases} \tan(\alpha + k\pi) = \tan \alpha \\ \cot(\alpha + k\pi) = \cot \alpha \end{cases}$

2. Cung liên kết:

Đối: α và $-\alpha$	Bù: α và $\pi - \alpha$	Phụ: α và $\frac{\pi}{2} - \alpha$	Khác pi: $\pi; \pi + \alpha$	Khác $\frac{\pi}{2}$: $\alpha; \frac{\pi}{2} - \alpha$
-----------------------------------	---------------------------------------	--	-------------------------------------	--

$\sin(-\alpha) = -\sin \alpha$	$\sin(\pi - \alpha) = \sin \alpha$	$\sin\left(\frac{\pi}{2} - \alpha\right) = \cos \alpha$	$\sin(\pi + \alpha) = -\sin \alpha$	$\sin\left(\frac{\pi}{2} + \alpha\right) = \cos \alpha$
$\cos(-\alpha) = \cos \alpha$	$\cos(\pi - \alpha) = -\cos \alpha$	$\cos\left(\frac{\pi}{2} - \alpha\right) = \sin \alpha$	$\cos(\pi + \alpha) = -\cos \alpha$	$\cos\left(\frac{\pi}{2} + \alpha\right) = -\sin \alpha$
$\tan(-\alpha) = -\tan \alpha$	$\tan(\pi - \alpha) = -\tan \alpha$	$\tan\left(\frac{\pi}{2} - \alpha\right) = \cot \alpha$	$\tan(\pi + \alpha) = \tan \alpha$	$\tan\left(\frac{\pi}{2} + \alpha\right) = -\cot \alpha$
$\cot(-\alpha) = -\cot \alpha$	$\cot(\pi - \alpha) = -\cot \alpha$	$\cot\left(\frac{\pi}{2} - \alpha\right) = \tan \alpha$	$\cot(\pi + \alpha) = \cot \alpha$	$\cot\left(\frac{\pi}{2} + \alpha\right) = -\tan \alpha$
Cos Đối	Sin Bù	Phụ Chéo	Khác pi Tang, Cotang	Khác pi chia 2 Sin bạn cos

3. Công thức cộng:

$\begin{cases} * \sin(a+b) = \sin a \cdot \cos b + \sin b \cdot \cos a \\ * \sin(a-b) = \sin a \cdot \cos b - \sin b \cdot \cos a \end{cases}$	$\begin{cases} * \cos(a+b) = \cos a \cdot \cos b - \sin a \cdot \sin b \\ * \cos(a-b) = \cos a \cdot \cos b + \sin a \cdot \sin b \end{cases}$
$\tan(a+b) = \frac{\tan a + \tan b}{1 - \tan a \cdot \tan b}$	$\tan(a-b) = \frac{\tan a - \tan b}{1 + \tan a \cdot \tan b}$

4. Công thức nhân đôi, nhân ba:

$\sin 2\alpha = 2 \sin \alpha \cdot \cos \alpha$	$\begin{aligned} \cos 2\alpha &= \cos^2 \alpha - \sin^2 \alpha \\ &= 2 \cos^2 \alpha - 1 = 1 - 2 \sin^2 \alpha \end{aligned}$	$\tan 2\alpha = \frac{2 \tan \alpha}{1 - \tan^2 \alpha}$
$\sin 3\alpha = 3 \sin \alpha - 4 \sin^3 \alpha$	$\cos 3\alpha = 4 \cos^3 \alpha - 3 \cos \alpha$	$\tan 3\alpha = \frac{3 \tan \alpha - \tan^3 \alpha}{1 - 3 \tan^2 \alpha}$

5. Công thức hạ bậc

$\sin^2 \alpha = \frac{1 - \cos 2\alpha}{2}$	$\cos^2 \alpha = \frac{1 + \cos 2\alpha}{2}$	$\tan^2 \alpha = \frac{1 - \cos 2\alpha}{1 + \cos 2\alpha}$
--	--	---

6. Công thức biến đổi tổng thành tích:

$\cos a + \cos b = 2 \cos \frac{a+b}{2} \cdot \cos \frac{a-b}{2}$	$\cos a - \cos b = -2 \sin \frac{a+b}{2} \cdot \sin \frac{a-b}{2}$
$\sin a + \sin b = 2 \sin \frac{a+b}{2} \cdot \cos \frac{a-b}{2}$	$\sin a - \sin b = 2 \cos \frac{a+b}{2} \cdot \sin \frac{a-b}{2}$
$\tan a + \tan b = \frac{\sin(a+b)}{\cos a \cdot \cos b}$	$\tan a - \tan b = \frac{\sin(a-b)}{\cos a \cdot \cos b}$
$\sin \alpha + \cos \alpha = \sqrt{2} \cdot \sin\left(\alpha + \frac{\pi}{4}\right) = \sqrt{2} \cdot \cos\left(\alpha - \frac{\pi}{4}\right)$	$\sin \alpha - \cos \alpha = \sqrt{2} \sin\left(\alpha - \frac{\pi}{4}\right) = -\sqrt{2} \cos\left(\alpha + \frac{\pi}{4}\right)$

7. Công thức biến đổi tích thành tổng:

$\cos a \cdot \cos b = \frac{1}{2} [\cos(a+b) + \cos(a-b)]$	$\sin a \cdot \sin b = \frac{1}{2} [\cos(a-b) - \cos(a+b)]$	$\sin a \cdot \cos b = \frac{1}{2} [\sin(a+b) + \sin(a-b)]$
Cos.Cos thì Cos cộng cộng Cos trừ	Sin.Sin thì Cos trừ trừ Cos cộng	Sin.Cos thì Sin cộng cộng Sin trừ

PHƯƠNG TRÌNH LƯỢNG GIÁC

$\sin u = \sin v \Leftrightarrow \begin{cases} u = v + k2\pi \\ u = \pi - v + k2\pi \end{cases} \quad (k \in \mathbb{Z})$	$\cos u = \cos v \Leftrightarrow \begin{cases} u = v + k2\pi \\ u = -v + k2\pi \end{cases} \quad (k \in \mathbb{Z})$
---	--

Đặc biệt: $\left\{ \begin{array}{l} \sin u = 1 \Leftrightarrow u = \frac{\pi}{2} + k2\pi \\ \sin u = -1 \Leftrightarrow u = -\frac{\pi}{2} + k2\pi \quad (k \in \mathbb{Z}) \\ \sin u = 0 \Leftrightarrow u = k\pi \end{array} \right.$	Đặc biệt: $\left\{ \begin{array}{l} \cos u = 1 \Leftrightarrow u = k2\pi \\ \cos u = -1 \Leftrightarrow u = \pi + k2\pi \quad (k \in \mathbb{Z}) \\ \cos u = 0 \Leftrightarrow u = \frac{\pi}{2} + k\pi \end{array} \right.$
<ul style="list-style-type: none"> $\tan u = \tan v \Leftrightarrow u = v + k\pi \quad (k \in \mathbb{Z})$ 	<ul style="list-style-type: none"> $\cot u = \cot v \Leftrightarrow u = v + k\pi \quad (k \in \mathbb{Z})$

TỔ HỢP - XÁC SUẤT

QUY TẮC CỘNG	QUY TẮC NHÂN
Nếu phép đếm được chia ra nhều trường hợp , ta sẽ cộng các kết quả lại.	Nếu phép đếm được chia ra làm nhều giai đoạn bắt buộc , ta sẽ nhân các kết quả của mỗi giai đoạn ấy.

HOÁN VỊ	CHỈNH HỢP	TỔ HỢP
<ul style="list-style-type: none"> Sắp xếp (đổi chỗ) của n phần tử khác nhau, ta có số cách xếp là $P_n = n!$ với $n \in \mathbb{N}$. Cách tính: $n! = 1.2.....(n-1)n$. Quy ước số: $0! = 1$. 	<ul style="list-style-type: none"> Chọn k phần tử từ n phần tử (không sắp xếp thứ tự), ta có số cách chọn là C_n^k. Cách tính: $C_n^k = \frac{n!}{(n-k)!k!}$ với $\begin{cases} n, k \in \mathbb{N} \\ 0 \leq k \leq n \end{cases}$ 	<ul style="list-style-type: none"> Chọn k phần tử từ n phần tử (có sắp xếp thứ tự), ta được số cách chọn là A_n^k. Cách tính: $A_n^k = \frac{n!}{(n-k)!}$ với $\begin{cases} n, k \in \mathbb{N} \\ 0 \leq k \leq n \end{cases}$

XÁC SUẤT	<ul style="list-style-type: none"> Công thức: $P(X) = \frac{n(X)}{n(\Omega)}$ Trong đó: $n(X)$: số phần tử của tập biến cố X; $n(\Omega)$: số phần tử không gian mẫu. $P(X)$ là xác suất để biến cố X xảy ra với $X \subset \Omega$. 	<ul style="list-style-type: none"> Tính chất: $0 \leq P(X) \leq 1$. $P(\emptyset) = 0; P(\Omega) = 1$. $P(X) = 1 - P(\bar{X})$ với \bar{X} là biến cố đối của X.
-----------------	--	---

KHAI TRIỂN NHỊ THỨC NEWTON

Khai triển dạng liệt kê: <i>Trong các công thức bên, ta luôn có $n \in \mathbb{N}, n \geq 2$.</i>	<ul style="list-style-type: none"> $(a+b)^n = C_n^0 a^n + C_n^1 a^{n-1}b + C_n^2 a^{n-2}b^2 + \dots + C_n^{n-1} a b^{n-1} + C_n^n b^n$. Đặc biệt: $(1+x)^n = C_n^0 + C_n^1 x + C_n^2 x^2 + \dots + C_n^{n-1} x^{n-1} + C_n^n x^n$ (*). Hệ quả 1: $C_n^0 + C_n^1 + C_n^2 + \dots + C_n^{n-1} + C_n^n = 2^n$ (tức là thay $x=1$ vào (*)). Hệ quả 2: Với n chẵn, chỉ cần thay $x=-1$ vào (*), ta có: $C_n^0 - C_n^1 + C_n^2 - \dots - C_n^{n-1} + C_n^n = 0 \Leftrightarrow C_n^0 + C_n^2 + C_n^4 \dots + C_n^n = C_n^1 + C_n^3 + \dots + C_n^{n-1}$
--	---

Khai triển tổng quát: <i>Trong các công thức bên, ta luôn có $n \in \mathbb{N}, n \geq 2$.</i>	<ul style="list-style-type: none"> Khai triển: $(a+b)^n = \sum_{k=0}^n C_n^k a^{n-k} b^k$. Số hạng tổng quát: $T_{k+1} = C_n^k a^{n-k} b^k$ Phân biệt hệ số và số hạng: $C_n^k (-1)^k a^{n-k} b^k \cdot x^\alpha$ <div style="text-align: center;"> $\underbrace{\hspace{10em}}_{\text{HỆ SỐ}}$ $\underbrace{\hspace{10em}}_{\text{SỐ HẠNG}}$ </div> <p>Nhớ rằng số hạng không chứa x ứng với $\alpha = 0$.</p>
---	---

CẤP SỐ CỘNG - CẤP SỐ NHÂN

CẤP SỐ CỘNG	CẤP SỐ NHÂN
-------------	-------------

1. Định nghĩa:

▪ Dãy số (u_n) được gọi là **cấp số cộng** khi và chỉ khi $u_{n+1} = u_n + d$ với $n \in \mathbb{N}^*$.

▪ **Cấp số cộng** như trên có **số hạng đầu** u_1 , **công sai** d .

2. Số hạng tổng quát:

▪ $u_n = u_1 + (n-1)d$ với $n \in \mathbb{N}^*$.

3. Tính chất các số hạng:

▪ $u_{k-1} + u_{k+1} = 2u_k$ với $k \in \mathbb{N}$ và $k \geq 2$.

4. Tổng n số hạng đầu tiên:

▪ $S_n = u_1 + u_2 + \dots + u_n = \frac{(u_1 + u_n)n}{2}$.

1. Định nghĩa:

▪ Dãy số (u_n) được gọi là **cấp số nhân** khi và chỉ khi $u_{n+1} = u_n \cdot q$ với $n \in \mathbb{N}^*$.

▪ **Cấp số nhân** như trên có **số hạng đầu** u_1 , **công bội** q .

2. Số hạng tổng quát:

▪ $u_n = u_1 \cdot q^{n-1}$ với $n \in \mathbb{N}^*$.

3. Tính chất các số hạng:

▪ $u_{k-1} \cdot u_{k+1} = u_k^2$ với $k \in \mathbb{N}$ và $k \geq 2$.

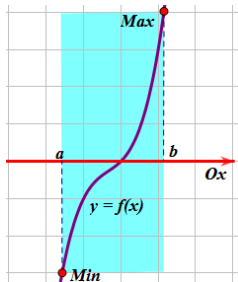
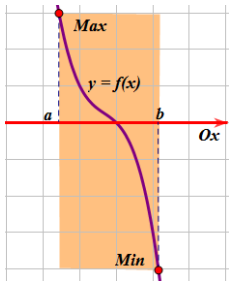
4. Tổng n số hạng đầu tiên:

▪ $S_n = u_1 + u_2 + \dots + u_n = \frac{u_1(1-q^n)}{1-q}$ với $q \neq 1$.

KHẢO SÁT HÀM SỐ & BÀI TOÁN LIÊN QUAN

XÉT TÍNH ĐƠN ĐIỆU	HÀM BẬC BA $y = ax^3 + bx^2 + cx + d$ ($a \neq 0$)	HÀM NHẤT BIẾN $y = \frac{ax+b}{cx+d}$ ($ad - bc \neq 0$)						
<ul style="list-style-type: none"> ▪ Bước 1: Tìm tập xác định D. ▪ Bước 2: Tính $y' = f'(x)$; cho $y' = 0 \xrightarrow{\text{Tìm nghiệm}} x_1, x_2, \dots$ ▪ Bước 3: Lập bảng biến thiên. (Nên chọn giá trị x đại diện cho từng khoảng thay vào y' để tìm dấu của y' trên khoảng đó). ▪ Bước 4: Dựa vào bảng biến thiên để kết luận về sự đồng biến, nghịch biến của hàm số. 	<ul style="list-style-type: none"> ▪ Đạo hàm $y' = 3ax^2 + 2bx + c$. ▪ Hàm số đồng biến trên tập xác định $\mathbb{R} \Leftrightarrow y' \geq 0, \forall x \in \mathbb{R}$ $\Leftrightarrow \begin{cases} a > 0 \\ \Delta \leq 0 \end{cases}$ ▪ Hàm số ngịch biến trên tập xác định $\mathbb{R} \Leftrightarrow y' \leq 0, \forall x \in \mathbb{R}$ $\Leftrightarrow \begin{cases} a < 0 \\ \Delta \leq 0 \end{cases}$ 	<ul style="list-style-type: none"> ▪ Đạo hàm $y' = \frac{ad - bc}{(cx+d)^2}$. ▪ Hàm số đồng biến trên từng khoảng xác định $\Leftrightarrow ad - bc > 0$. ▪ Hàm số ngịch biến trên từng khoảng xác định $\Leftrightarrow ad - bc < 0$. 						
ĐIỀU KIỆN CỰC TRỊ	CỰC TRỊ HÀM BẬC BA $y = ax^3 + bx^2 + cx + d$ ($a \neq 0$)	CỰC TRỊ HÀM BẬC BỐN $y = ax^4 + bx^2 + c$ ($a \neq 0$)						
<ul style="list-style-type: none"> ▪ Hàm số có điểm cực trị là $(x_0; y_0) \Leftrightarrow \begin{cases} y'(x_0) = 0 \\ y(x_0) = y_0 \end{cases}$. (giả thiết là hàm số liên tục tại x_0). ▪ Nếu $\begin{cases} f'(x_0) = 0 \\ f''(x_0) < 0 \end{cases}$ thì hàm số $f(x)$ đạt cực đại tại $x = x_0$. ▪ Nếu $\begin{cases} f'(x_0) = 0 \\ f''(x_0) > 0 \end{cases}$ thì hàm số $f(x)$ đạt cực tiểu tại $x = x_0$. 	<ul style="list-style-type: none"> ▪ Đạo hàm $y' = 3ax^2 + 2bx + c$. ▪ Hàm số có hai cực trị $\Leftrightarrow \begin{cases} a \neq 0 \\ \Delta_{y'} > 0 \end{cases} (*)$. ▪ Để tìm điều kiện cho hàm số không có cực trị: Bước 1: làm theo công thức (*). Bước 2: phủ định kết quả. ▪ Phương trình đường thẳng đi qua hai điểm cực trị: $y = f(x) - \frac{f'(x) \cdot f''(x)}{18a}$ 	<ul style="list-style-type: none"> ▪ Đạo hàm $y' = 4ax^3 + 2bx$. ▪ Điều kiện cực trị <table border="1" data-bbox="1068 1476 1523 1671"> <tr> <td>Ba cực trị</td> <td>$ab < 0$</td> </tr> <tr> <td>Một cực trị</td> <td>$\begin{cases} ab \geq 0 \\ a^2 + b^2 > 0 \end{cases}$</td> </tr> <tr> <td>Có cực trị</td> <td>$a^2 + b^2 > 0$</td> </tr> </table> ▪ Cho A, B, C là ba điểm cực trị, ta có: $\cos BAC = \frac{b^3 + 8a}{b^3 - 8a}$ ▪ $S_{\Delta ABC} = \sqrt{\frac{b^5}{-32a^3}}$ 	Ba cực trị	$ab < 0$	Một cực trị	$\begin{cases} ab \geq 0 \\ a^2 + b^2 > 0 \end{cases}$	Có cực trị	$a^2 + b^2 > 0$
Ba cực trị	$ab < 0$							
Một cực trị	$\begin{cases} ab \geq 0 \\ a^2 + b^2 > 0 \end{cases}$							
Có cực trị	$a^2 + b^2 > 0$							
TÌM MAX-MIN TRÊN ĐOẠN Tìm Max-Min của $f(x)$ trên đoạn $[a; b]$	TÌM MAX-MIN TRÊN KHOẢNG Tìm Max-Min của $f(x)$ trên khoảng $(a; b)$							

<ul style="list-style-type: none"> ▪ Bước 1: Tính $y' = f'(x)$. Tìm các nghiệm $x_i \in (a;b)$ khi cho $f'(x) = 0$. ▪ Bước 2: Tính các giá trị $f(a)$, $f(b)$ và $f(x_i)$,... (nếu có). ▪ Bước 3: So sánh tất cả giá trị trong bước 2 để kết luận về giá trị lớn nhất, nhỏ nhất. 	<ul style="list-style-type: none"> ▪ Bước 1: Tính $y' = f'(x)$. Tìm các nghiệm $x_i \in (a;b)$ khi cho $f'(x) = 0$. ▪ Bước 2: Cần tính $\lim_{x \rightarrow a^+} y$, $\lim_{x \rightarrow b^-} y$. (Nếu thay $(a;b)$ bằng $(-\infty; +\infty)$ thì ta tính thêm $\lim_{x \rightarrow \pm\infty} y$). ▪ Bước 3: Lập bảng biến thiên và suy ra giá trị lớn nhất, nhỏ nhất trên khoảng.
--	---

ĐẶC BIỆT	<ul style="list-style-type: none"> ▪ Nếu hàm $f(x)$ đồng biến trên $[a;b]$ thì $\begin{cases} \max_{x \in [a;b]} f(x) = f(b) \\ \min_{x \in [a;b]} f(x) = f(a) \end{cases}$ 	<ul style="list-style-type: none"> ▪ Nếu hàm $f(x)$ nghịch biến trên $[a;b]$ thì $\begin{cases} \max_{x \in [a;b]} f(x) = f(a) \\ \min_{x \in [a;b]} f(x) = f(b) \end{cases}$ 
-----------------	--	--

TIỆM CẬN ĐỨNG	TIỆM CẬN NGANG
----------------------	-----------------------

<ul style="list-style-type: none"> ▪ Định nghĩa: $\begin{cases} x \rightarrow x_0 & (x \text{ hữu hạn, } y \text{ vô hạn}), \\ y \rightarrow \pm\infty & (x \text{ vô hạn, } y \text{ hữu hạn}), \end{cases}$ ta có tiệm cận đứng $x = x_0$. Lưu ý: điều kiện $x \rightarrow x_0$ có thể được thay bằng $x \rightarrow x_0^-$ (giới hạn bên trái) hoặc $x \rightarrow x_0^+$ (giới hạn bên phải). ▪ Cách tìm TCD: Nếu $x = x_0$ là một nghiệm của mẫu số mà không phải là nghiệm của tử số thì $x = x_0$ chính là một TCD của đồ thị. 	<ul style="list-style-type: none"> ▪ Định nghĩa: $\begin{cases} x \rightarrow \pm\infty & (x \text{ vô hạn, } y \text{ hữu hạn}), \\ y \rightarrow y_0 & (x \text{ hữu hạn, } y \text{ vô hạn}), \end{cases}$ ta có tiệm cận ngang $y = y_0$. ▪ Cách tìm TCN: Đơn giản nhất là dùng CASIO Bước 1: Nhập hàm số vào máy. Bước 2: $\boxed{CALC} \xrightarrow{NEXT} \boxed{X = 10 \wedge 10} \xrightarrow{NEXT} \boxed{=}$ $\boxed{CALC} \xrightarrow{NEXT} \boxed{X = -10 \wedge 10} \xrightarrow{NEXT} \boxed{=}$ Bước 3: Nếu kết quả thu được là hữu hạn (tức là y_0) thì ta kết luận TCN: $y = y_0$.
---	---

▪ Đồ thị hàm số $y = \frac{ax + b}{cx + d}$ với $(c \neq 0, ad - bc \neq 0)$ có một TCD: $x = -\frac{d}{c}$, một TCN: $y = \frac{a}{c}$.

▪ **Nên nhớ, đồ thị có thể có nhiều tiệm cận đứng, nhưng chỉ có tối đa là 2 tiệm cận ngang.**

TÌM TỌA ĐỘ GIAO ĐIỂM HOẶC SỐ GIAO ĐIỂM HAI ĐỒ THỊ
Xét hai đồ thị $(C_1) : y = f(x)$ và $(C_2) : y = g(x)$.

<ul style="list-style-type: none"> ▪ Bước 1: Lập phương trình hoành độ giao điểm của $(C_1) \& (C_2)$: $\boxed{f(x) = g(x)}$. (*) 	<ul style="list-style-type: none"> ▪ Bước 2: Giải phương trình (*) để tìm các nghiệm x_1, x_2, \dots (nếu có), suy ra y_1, y_2, \dots
---	---

PHƯƠNG TRÌNH TIẾP TUYẾN

DANG 1	DANG 2	DANG 3
Viết phương trình tiếp tuyến của đồ thị $(C) : y = f(x)$ tại điểm $M(x_0; y_0) \in (C)$	Viết phương trình tiếp tuyến của đồ thị $(C) : y = f(x)$ biết tiếp tuyến có hệ số góc k .	Viết phương trình tiếp tuyến của đồ thị $(C) : y = f(x)$ biết tiếp tuyến đi qua $A(x_A; y_A)$.
<ul style="list-style-type: none"> ▪ Bước 1: Tính đạo hàm y', từ đó có hệ số góc $k = y'(x_0)$. ▪ Bước 2: Viết phương trình tiếp tuyến của đồ thị dạng $\boxed{y = k(x - x_0) + y_0}$. 	<ul style="list-style-type: none"> ▪ Bước 1: Gọi $M(x_0; y_0)$ là tiếp điểm và tính đạo hàm y'. ▪ Bước 2: Cho $y'(x_0) = k$, từ đó tìm được tiếp điểm $(x_0; y_0)$. ▪ Bước 3: Viết phương trình tiếp tuyến : 	<ul style="list-style-type: none"> ▪ Bước 1: Tiếp tuyến có dạng : $y = y'(x_0)(x - x_0) + y_0$ (*) với $y_0 = f(x_0)$. ▪ Bước 2: Thay tọa độ điểm A vào (*) để tìm được x_0. ▪ Bước 3: Thay x_0 tìm được vào

$$y = k(x - x_0) + y_0.$$

(*) để viết phương trình tiếp tuyến.

SỐ PHỨC VÀ CÁC YẾU TỐ LIÊN QUAN

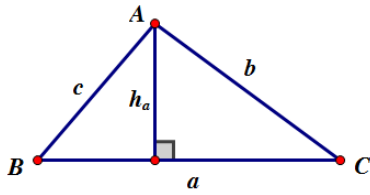
Số phức có dạng: $z = a + bi$ với $\begin{cases} a, b \in \mathbb{R} \\ i^2 = -1 \end{cases}$ (i : là đơn vị ảo). Ký hiệu tập số phức: \mathbb{C} .

Thành phần	Hình học	Minh họa
<ul style="list-style-type: none"> ▪ Phần thực: a. Nếu $a = 0$ thì $z = bi$ được gọi là số thuần ảo. ▪ Phần ảo: b. Nếu $b = 0$ thì $z = a$ là số thực. ▪ Khi $a = b = 0$ thì $z = 0$ vừa là số thuần ảo vừa là số thực. 	<ul style="list-style-type: none"> ▪ Điểm $M(a;b)$ biểu diễn cho z trên hệ trục Oxy. ▪ Mô-đun: $z = OM = \sqrt{a^2 + b^2}$. 	
Số phức liên hợp - Số phức nghịch đảo	Căn bậc hai	Phương trình bậc hai
<p>Cho $z = a + bi$. Khi đó:</p> <ul style="list-style-type: none"> ▪ Số phức liên hợp của nó là $\bar{z} = a - bi$. ▪ Số phức nghịch đảo là $z^{-1} = \frac{1}{z} = \frac{1}{a + bi} = \frac{a - bi}{a^2 + b^2} = \frac{a}{a^2 + b^2} - \frac{b}{a^2 + b^2}i$. 	<ul style="list-style-type: none"> ▪ Căn bậc hai của $a > 0$ là $\pm\sqrt{a}$. ▪ Căn bậc hai của $a < 0$ là $\pm i\sqrt{-a}$. ▪ Căn bậc hai của số phức $z = a + bi$ là hai số phức dạng $w = x + yi$ với $\begin{cases} x^2 - y^2 = a \\ 2xy = b \end{cases}$. 	<ul style="list-style-type: none"> ▪ Phương trình $z^2 = a > 0$ có hai nghiệm phức $z = \pm\sqrt{a}$. ▪ Phương trình $z^2 = a < 0$ có hai nghiệm phức $z = \pm i\sqrt{-a}$. ▪ Phương trình $az^2 + bz + c = 0$ với $\Delta < 0$ sẽ có hai nghiệm phức là: $z_{1,2} = \frac{-b \pm i\sqrt{-\Delta}}{2a}$.

KHOẢNG ĐA DIỆN VÀ THỂ TÍCH CỦA CHÚNG

I. MỘT SỐ HÌNH PHẪNG CƠ BẢN:

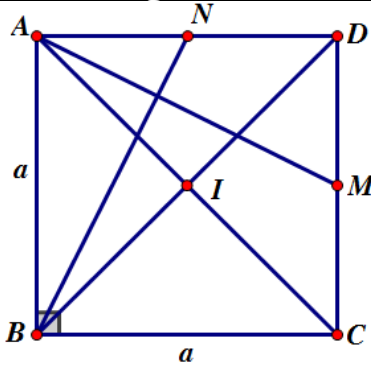
<p>1. Tam giác vuông:</p>	<p><i>Pitago</i></p> <ul style="list-style-type: none"> ▪ $AB^2 + AC^2 = BC^2$ ▪ $AB^2 = BH \cdot BC$ ▪ $AC^2 = CH \cdot BC$ ▪ $AH^2 = BH \cdot CH$ ▪ $\frac{1}{AH^2} = \frac{1}{AB^2} + \frac{1}{AC^2} \Rightarrow AH = \frac{AB \cdot AC}{\sqrt{AB^2 + AC^2}}$
<ul style="list-style-type: none"> ▪ $\sin B = \frac{AC}{BC}$ (đối/huyền) ▪ $\cos B = \frac{AB}{BC}$ (kề/huyền) ▪ $\tan B = \frac{AC}{AB}$ (đối/kề) ▪ $\cot B = \frac{AB}{AC}$ (kề/đối) 	
<p>2. Tam giác đều:</p>	<p>Giả sử tam giác ABC đều có cạnh a; trọng tâm G; các đường cao (trùng với trung tuyến) gồm AH, BK.</p> <ul style="list-style-type: none"> ▪ Đường cao: $AH = BK = \frac{(cạnh) \times \sqrt{3}}{2} = \frac{a\sqrt{3}}{2}$. ▪ $AG = \frac{2}{3}AH = \frac{2}{3} \cdot \frac{a\sqrt{3}}{2} = \frac{a\sqrt{3}}{3}$; $GH = \frac{1}{3}AH = \frac{1}{3} \cdot \frac{a\sqrt{3}}{2} = \frac{a\sqrt{3}}{6}$. ▪ Diện tích: $S_{\Delta ABC} = \frac{(cạnh)^2 \times \sqrt{3}}{4} = \frac{a^2 \sqrt{3}}{4}$.
<p>3. Tam giác thường:</p>	<p>Giả sử tam giác ABC có $a = BC, b = AC, c = AB$; các đường cao h_a, h_b, h_c lần lượt ứng với cạnh a, b, c. Ký hiệu R, r lần lượt là bán kính đường tròn ngoại tiếp, nội tiếp Δ.</p>



- Định lí Sin: $\frac{a}{\sin A} = \frac{b}{\sin B} = \frac{c}{\sin C} = 2R$.
- Định lí Cô-sin: $a^2 = b^2 + c^2 - 2bc \cdot \cos A$;
 $b^2 = a^2 + c^2 - 2ac \cdot \cos B$; $c^2 = a^2 + b^2 - 2ab \cdot \cos C$.

- Diện tích: $S_{\Delta ABC} = \frac{1}{2}h_a \cdot a = \frac{1}{2}h_b \cdot b = \frac{1}{2}h_c \cdot c$; $S_{\Delta ABC} = \frac{1}{2}ab \cdot \sin C = \frac{1}{2}ac \cdot \sin B = \frac{1}{2}bc \cdot \sin A$;
 - $S_{\Delta ABC} = \frac{abc}{4R} = pr$; $S_{\Delta ABC} = \sqrt{p(p-a)(p-b)(p-c)}$ với $p = \frac{a+b+c}{2}$ (nửa chu vi).
- Công thức Hê-Rông

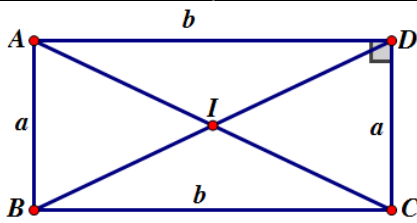
4. Hình vuông:



Cho hình vuông ABCD có cạnh a; hai điểm M, N lần lượt là trung điểm của CD, AD; I là tâm hình vuông.

- Đường chéo: $\begin{cases} AC \perp BD \\ AC = BD = (\text{cạnh}) \times \sqrt{2} = a\sqrt{2} \end{cases}$
- $IA = IB = IC = ID = \frac{a\sqrt{2}}{2}$ nên I là tâm đường tròn đi qua bốn đỉnh hình vuông.
- Diện tích: $S_{ABCD} = (\text{cạnh})^2 = a^2$; chu vi: $p = 4a$.
- Vì $\Delta ABN = \Delta ADM$, ta chứng minh được: $AM \perp BN$.

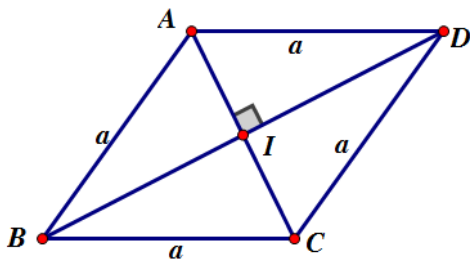
5. Hình chữ nhật:



Cho hình chữ nhật ABCD tâm I có $AB = a, AD = b$.

- Đường chéo: $AC = BD = \sqrt{a^2 + b^2}$.
- $IA = IB = IC = ID = \frac{1}{2}\sqrt{a^2 + b^2}$ nên I là tâm đường tròn đi qua bốn điểm A, B, C, D.
- Diện tích: $S_{ABCD} = a \cdot b$; chu vi: $p = 2(a + b)$.

6. Hình thoi:



Cho hình thoi ABCD có tâm I, cạnh bằng a.

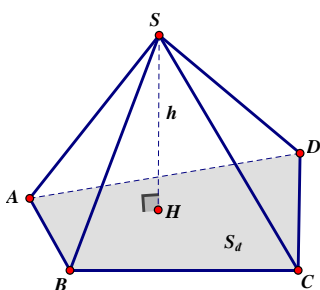
- Đường chéo: $AC \perp BD$; $AC = 2AI = 2AB \cdot \sin \angle ABI = 2a \cdot \sin \angle ABI$.
- Diện tích: $S_{ABCD} = \frac{1}{2}AC \cdot BD$; $S_{ABCD} = 2S_{\Delta ABC} = 2S_{\Delta ACD} = 2S_{\Delta ABD}$.

Đặc biệt: Nếu hình thoi có góc $B = D = 60^\circ$ ($A = C = 120^\circ$) thì ta chia hình thoi ra làm hai tam giác đều: $\Delta ABC = \Delta ACD$.

$$AC = a \text{ và } S_{\Delta ABC} = S_{\Delta ACD} = \frac{a^2 \sqrt{3}}{4}; S_{ABCD} = 2S_{\Delta ABC} = \frac{a^2 \sqrt{3}}{2}.$$

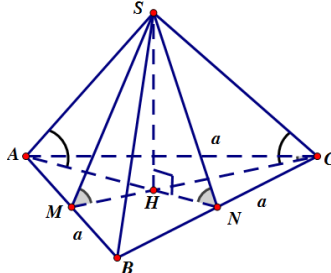
II. THỂ TÍCH KHỐI CHÓP:

7. Hình chóp:



$$V = \frac{1}{3}h \cdot S_d$$

7.1. Hình chóp tam giác đều



- Tất cả cạnh bên bằng nhau.
- Đáy là tam giác đều cạnh a.
- $SH \perp (ABC)$ với H là trọng tâm ΔABC .
- $\begin{cases} S_d = \frac{a^2 \sqrt{3}}{4} \\ SH = h \end{cases} \xrightarrow{\text{Thể tích}} V = \frac{1}{3}h \cdot \frac{a^2 \sqrt{3}}{4}$

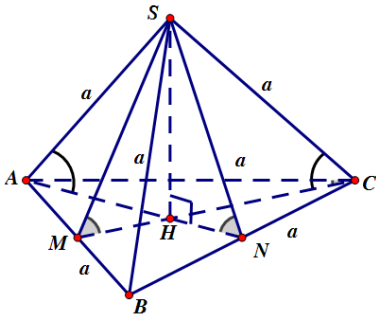
★ Góc giữa cạnh bên và mặt

★ Góc giữa mặt bên và mặt đáy:

7.2. Tứ diện đều:

- Đây cũng là hình chóp tam giác đều, đặc biệt là cạnh bên bằng cạnh đáy. Thể

tích: $V = \frac{a^3 \sqrt{2}}{12}$.



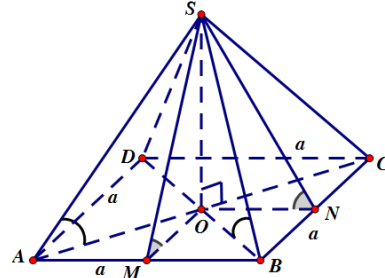
đáy: $SA, (ABC) = SAH$

$= SC, (ABC) = SCH$.

$(SAB), (ABC) = SMH$

$= (SBC), (ABC) = SNH$.

7.3. Hình chóp tứ giác đều:



- Tất cả cạnh bên bằng nhau.
- Đáy là hình vuông cạnh a .
- $SO \perp (ABCD)$ với O là tâm hình vuông $ABCD$.

$\begin{cases} S_d = a^2 \\ SO = h \end{cases} \xrightarrow{\text{Thể tích}} V = \frac{1}{3} h \cdot a^2$.

☆ Góc giữa cạnh bên và mặt

đáy: $SA, (ABCD) = SAO$

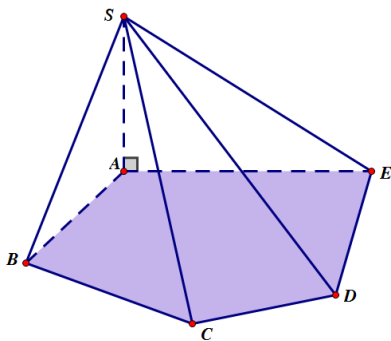
$= SB, (ABCD) = SBO$.

☆ Góc giữa mặt bên và mặt đáy:

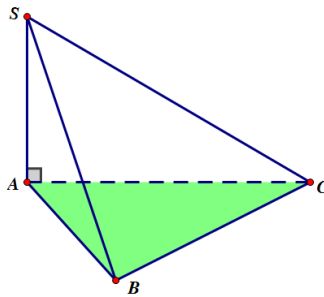
$(SAB), (ABCD) = SMO$

$= (SBC), (ABCD) = SNO$.

7.4. Hình chóp có cạnh bên SA vuông góc với mặt phẳng đáy.



Đáy là tam giác

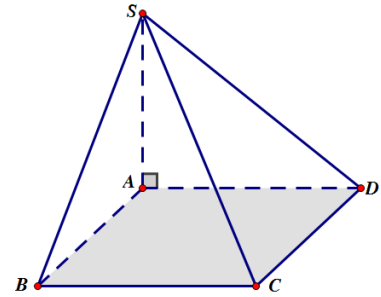


$\begin{cases} h = SA \\ S_d = S_{\Delta ABC} \end{cases} \xrightarrow{\text{Thể tích}} V = \frac{1}{3} SA \cdot S_{\Delta ABC}$.

- Góc giữa cạnh bên và mặt đáy:

$\begin{cases} SB, (ABC) = SBA \\ SC, (ABC) = SCA \end{cases}$

Đáy là tứ giác đặc biệt

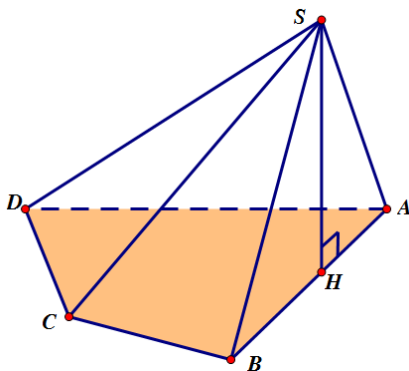


$\begin{cases} h = SA \\ S_d = S_{ABCD} \end{cases} \xrightarrow{\text{Thể tích}} V = \frac{1}{3} SA \cdot S_{ABCD}$.

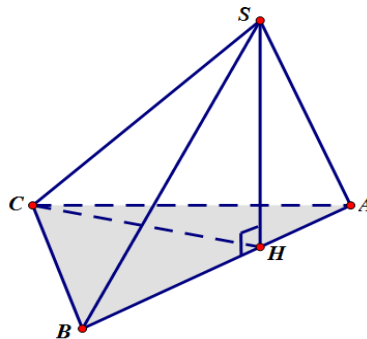
- Góc giữa cạnh bên và mặt đáy:

$\begin{cases} SB, (ABCD) = SBA \\ SC, (ABCD) = SCA \end{cases}$

7.5. Hình chóp có mặt bên (SAB) vuông góc với mặt phẳng đáy.



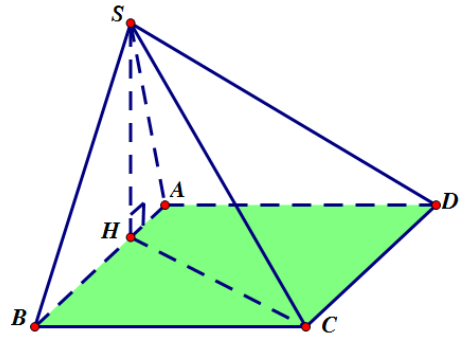
Đáy là tam giác



- Đường cao $h = SH$ cũng là đường cao của ΔSAB .
- Góc giữa cạnh bên và mặt đáy:

$\begin{cases} SA, (ABC) = SAH \\ SC, (ABC) = SCH \end{cases}$

Đáy là tứ giác đặc biệt



- Đường cao $h = SH$ cũng là đường cao của ΔSAB .
- Góc giữa cạnh bên và mặt đáy:

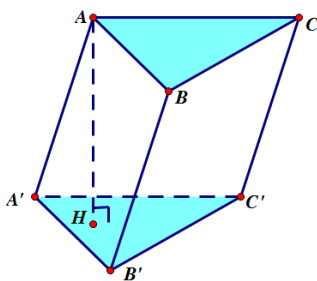
$\begin{cases} SA, (ABCD) = SAH \\ SC, (ABCD) = SCH \end{cases}$

III. THỂ TÍCH KHỐI LĂNG TRỤ:

1. Hình lăng trụ thường:

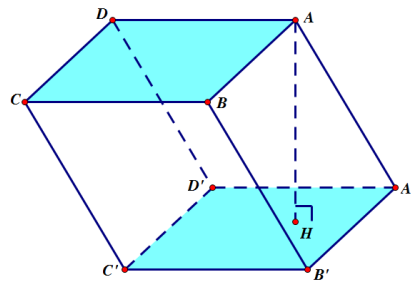
- Hai đáy là hai hình giống nhau và nằm trong hai mặt phẳng song song.
- Các cạnh bên song song và bằng nhau. Các mặt bên là các hình bình hành.
- Thể tích: $V = h.S_d$.

Đáy là tam giác



$$V = AH.S_{\triangle ABC} = AH.S_{\triangle A'B'C'}$$

Đáy là tứ giác

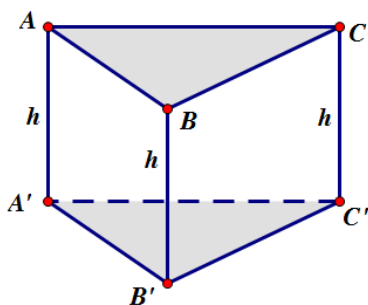


$$V = AH.S_{ABCD} = AH.S_{A'B'C'D'}$$

2. Hình lăng trụ đứng:

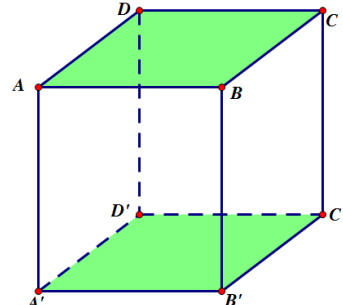
- Các cạnh bên cùng vuông góc với hai mặt đáy nên mỗi cạnh bên cũng là đường cao của lăng trụ.
- Lăng trụ tam giác đều:** Là **lăng trụ đứng** và có hai đáy là hai **tam giác đều** bằng nhau.

Đáy là tam giác



- Thể tích: $V = h.S_d$ với $h = AA' = BB' = CC'$.

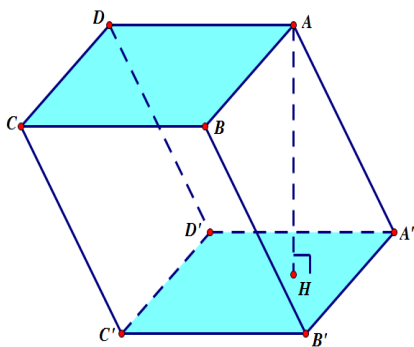
Đáy là tứ giác



- Thể tích: $V = h.S_d$ với $h = AA' = BB' = CC' = DD'$.

3. Hình hộp:

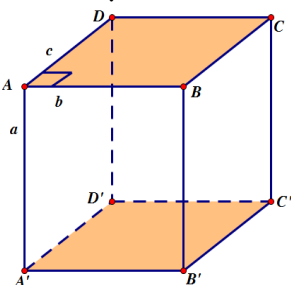
- Là lăng trụ có tất cả các mặt là hình bình hành.



- Thể tích: $V = h.S_d$.

3.1 Hình hộp chữ nhật:

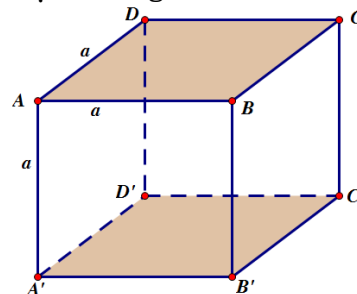
- Là lăng trụ đứng có đáy là hình chữ nhật.



- $V = abc$ với a, b, c là ba kích thước khác nhau của hình hộp chữ nhật.

3.2. Hình lập phương:

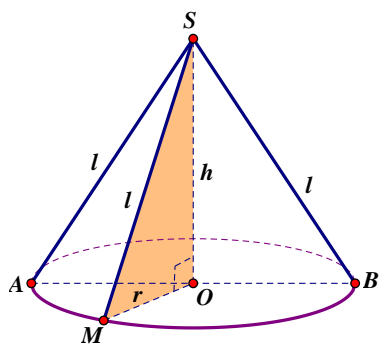
- Là hình hộp chữ nhật có tất cả các cạnh bằng nhau.



- $V = a^3$ với a là cạnh của hình lập phương.

MẶT TRỤ - MẶT NÓN - MẶT CẦU

MẶT NÓN



◻ Hình thành: Quay Δ vuông

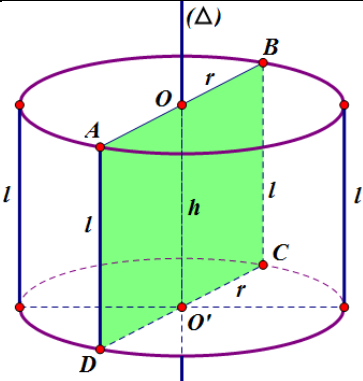
Các yếu tố mặt nón:

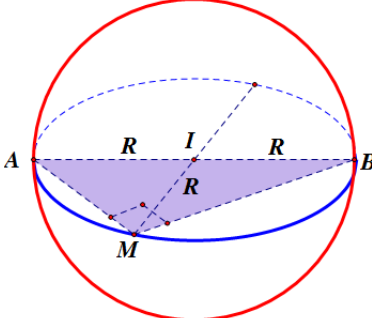
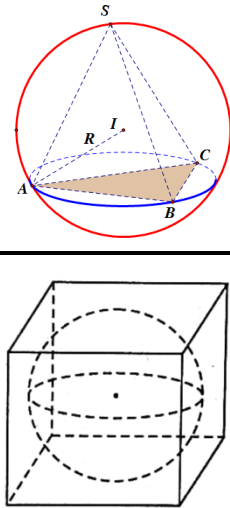
- Đường cao:** $h = SO$. (SO cũng được gọi là **trục** của hình nón).
- Bán kính đáy:** $r = OA = OB = OM$.
- Đường sinh:** $l = SA = SB = SM$.
- Góc ở đỉnh:** $\angle ASB$.

Một số công thức:

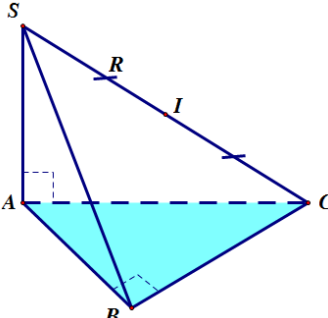
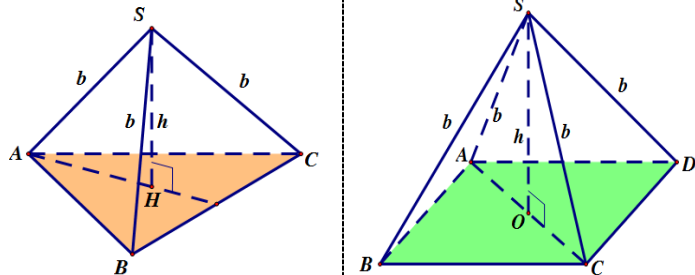
- Chu vi đáy:** $p = 2\pi r$.
- Diện tích đáy:** $S_d = \pi r^2$.
- Thể tích:** $V = \frac{1}{3}h.S_d = \frac{1}{3}h.\pi r^2$.
(liên tưởng khối chóp).
- Diện tích xung quanh:** $S_{xq} = \pi r.l$.

<p>SOM quanh trục SO, ta được mặt nón như hình bên với:</p> $\begin{cases} h = SO \\ r = OM \end{cases}$	<ul style="list-style-type: none"> ▪ Thiết diện qua trục: $\triangle SAB$ cân tại S. ▪ Góc giữa đường sinh và mặt đáy: $\boxed{SAO = SBO = SMO}$. 	<ul style="list-style-type: none"> ▪ Diện tích toàn phần: $S_{tp} = S_{xq} + S_a = \pi r l + \pi r^2.$
--	--	--

MẶT TRỤ	Các yếu tố mặt trụ:	Một số công thức:
 <p>☞ Hình thành: Quay hình chữ nhật $ABCD$ quanh đường trung bình OO', ta có mặt trụ như hình bên.</p>	<ul style="list-style-type: none"> ▪ Đường cao: $\boxed{h = OO'}$. ▪ Đường sinh: $\boxed{l = AD = BC}$. Ta có: $\boxed{l = h}$. ▪ Bán kính đáy: $\boxed{r = OA = OB = O'C = O'D}.$ <ul style="list-style-type: none"> ▪ Trục (Δ) là đường thẳng đi qua hai điểm O, O'. ▪ Thiết diện qua trục: Là hình chữ nhật $ABCD$. 	<ul style="list-style-type: none"> ▪ Chu vi đáy: $\boxed{p = 2\pi r}$. ▪ Diện tích đáy: $\boxed{S_d = \pi r^2}$. ▪ Thể tích khối trụ: $\boxed{V = h \cdot S_d = h \cdot \pi r^2}.$ <ul style="list-style-type: none"> ▪ Diện tích xung quanh: $\boxed{S_{xq} = 2\pi r \cdot h}.$ <ul style="list-style-type: none"> ▪ Diện tích toàn phần: $\boxed{S_{tp} = S_{xq} + 2S_d = 2\pi r \cdot h + 2\pi r^2}.$

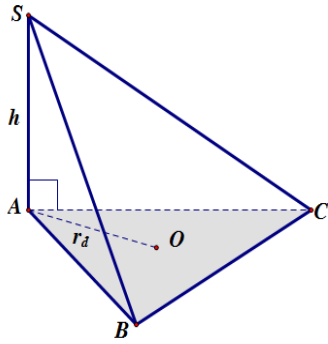
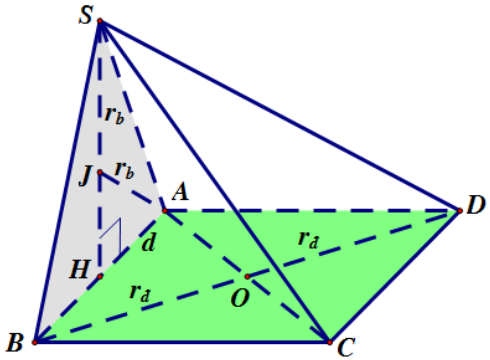
MẶT CẦU	Một số công thức:	Mặt cầu ngoại tiếp đa diện Mặt cầu nội tiếp đa diện
 <p>☞ Hình thành: Quay đường tròn tâm I, bán kính $R = \frac{AB}{2}$ quanh trục AB, ta có mặt cầu như hình vẽ.</p>	<ul style="list-style-type: none"> ▪ Tâm I, bán kính $R = IA = IB = IM.$ <ul style="list-style-type: none"> ▪ Đường kính $AB = 2R$. ▪ Thiết diện qua tâm mặt cầu: Là đường tròn tâm I, bán kính R. ▪ Diện tích mặt cầu: $\boxed{S = 4\pi R^2}$ ▪ Thể tích khối cầu: $\boxed{V = \frac{4\pi R^3}{3}}$ 	 <ul style="list-style-type: none"> ▪ Mặt cầu ngoại tiếp đa diện là mặt cầu đi qua tất cả đỉnh của đa diện đó. ▪ Mặt cầu nội tiếp đa diện là mặt cầu tiếp xúc với tất cả các mặt của đa diện đó.

CÁCH TÌM BÁN KÍNH MẶT CẦU NGOẠI TIẾP HÌNH CHÓP THƯỜNG GẶP

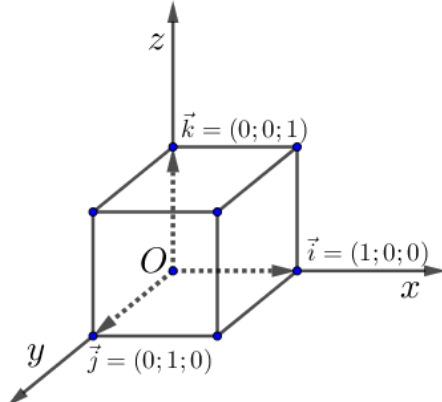
1. Hình chóp có các đỉnh nhìn một cạnh dưới một góc vuông.	2. Hình chóp đều.
 <ul style="list-style-type: none"> ▪ Xét hình chóp có $SA \perp (ABC)$ và 	 <ul style="list-style-type: none"> ▪ Xét hình chóp tam giác đều có cạnh bên bằng b và đường cao ▪ Xét hình chóp tứ giác đều có cạnh bên bằng b và chiều cao $SO = h$

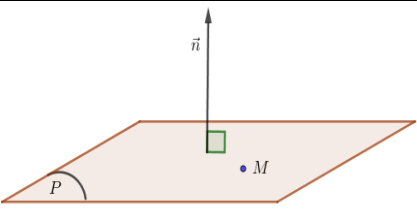
$ABC = 90^\circ$. ▪ Ta có $SAC = SBC = 90^\circ$ nên mặt cầu ngoại tiếp hình chóp có tâm I là trung điểm SC , bán kính $R = \frac{SC}{2}$.	nhật hoặc hình vuông. ▪ Ta có: $SAC = SBC = SDC = 90^\circ$ Suy ra mặt cầu ngoại tiếp hình chóp có tâm I là trung điểm SC , bán kính $R = \frac{SC}{2}$.	$SH = h$. ▪ Bán kính mặt cầu ngoại tiếp hình chóp trên là $R = \frac{b^2}{2h}$.	▪ Bán kính mặt cầu ngoại tiếp hình chóp trên là $R = \frac{b^2}{2h}$.
---	---	--	--

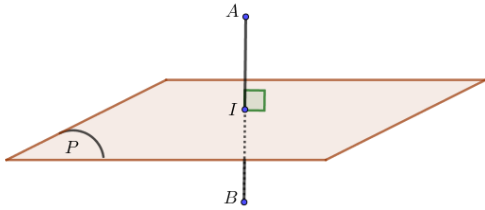
3. Hình chóp có cạnh bên vuông góc với mặt phẳng đáy.	4. Hình chóp có mặt bên vuông góc với mặt đáy.
--	---

 <p>▪ Khi đó mặt cầu ngoại tiếp hình chóp có bán kính $R = \sqrt{\left(\frac{h}{2}\right)^2 + r_d^2}$.</p> <p>▪ Nếu đáy là tam giác đều cạnh a thì $r_d = \frac{a\sqrt{3}}{3}$.</p> <p>▪ Nếu đáy là hình vuông cạnh a thì $r_d = \frac{a\sqrt{2}}{2}$.</p> <p>▪ Nếu đáy là hình chữ nhật cạnh a, b thì $r_d = \frac{\sqrt{a^2 + b^2}}{2}$.</p> <p>▪ Xét hình chóp có $SA \perp$ (đáy) và $SA = h$; bán kính đường tròn ngoại tiếp của đáy là r_d.</p>	 <p>▪ Xét hình chóp có mặt bên $(SAB) \perp$ (đáy), bán kính ngoại tiếp đáy là r_d, bán kính ngoại tiếp $\triangle SAB$ là r_b, $d = AB = (SAB) \cap$ (đáy).</p> <p>▪ Khi đó bán kính mặt cầu ngoại tiếp hình chóp là $R = \sqrt{r_d^2 + r_b^2 - \frac{d^2}{4}}$.</p>
--	---

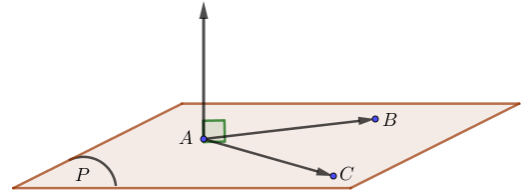
HÌNH HỌC GIẢI TÍCH TRONG KHÔNG GIAN

	<p>1. Hệ trục tọa độ Oxyz:</p> <ul style="list-style-type: none"> ▪ Hệ trục gồm ba trục Ox, Oy, Oz đôi một vuông góc nhau. ▪ Trục Ox: trục hoành, có vectơ đơn vị $\vec{i} = (1; 0; 0)$. ▪ Trục Oy: trục tung, có vectơ đơn vị $\vec{j} = (0; 1; 0)$. ▪ Trục Oz: trục cao, có vectơ đơn vị $\vec{k} = (0; 0; 1)$. ▪ Điểm $O(0; 0; 0)$ là gốc tọa độ. <p>2. Tọa độ vectơ: Vectơ $\vec{u} = x\vec{i} + y\vec{j} + z\vec{k} \Leftrightarrow \vec{u} = (x; y; z)$.</p> <p>Cho $\vec{a} = (a_1; a_2; a_3), \vec{b} = (b_1; b_2; b_3)$. Ta có:</p>
<ul style="list-style-type: none"> ▪ $\vec{a} \pm \vec{b} = (a_1 \pm b_1; a_2 \pm b_2; a_3 \pm b_3)$ ▪ $k\vec{a} = (ka_1; ka_2; ka_3)$ ▪ $\vec{a} = \vec{b} \Leftrightarrow \begin{cases} a_1 = b_1 \\ a_2 = b_2 \\ a_3 = b_3 \end{cases}$ 	<ul style="list-style-type: none"> ▪ \vec{a} cùng phương $\vec{b} \Leftrightarrow \vec{a} = k\vec{b} (k \in R)$ $\Leftrightarrow \begin{cases} a_1 = kb_1 \\ a_2 = kb_2 \\ a_3 = kb_3 \end{cases} \Leftrightarrow \frac{a_1}{b_1} = \frac{a_2}{b_2} = \frac{a_3}{b_3}, (b_1, b_2, b_3 \neq 0)$.
<ul style="list-style-type: none"> ▪ $\vec{a} \cdot \vec{b} = a_1 \cdot b_1 + a_2 \cdot b_2 + a_3 \cdot b_3$ ▪ $\vec{a} = \sqrt{a_1^2 + a_2^2 + a_3^2}$ ▪ $\vec{a}^2 = \vec{a} ^2 = a_1^2 + a_2^2 + a_3^2$ 	

<ul style="list-style-type: none"> $\vec{a} \perp \vec{b} \Leftrightarrow \vec{a} \cdot \vec{b} = 0 \Leftrightarrow a_1b_1 + a_2b_2 + a_3b_3 = 0$ 	<ul style="list-style-type: none"> $\cos(\vec{a}, \vec{b}) = \frac{\vec{a} \cdot \vec{b}}{ \vec{a} \cdot \vec{b} } = \frac{a_1b_1 + a_2b_2 + a_3b_3}{\sqrt{a_1^2 + a_2^2 + a_3^2} \cdot \sqrt{b_1^2 + b_2^2 + b_3^2}}$
3. Tọa độ điểm: $M(x; y; z) \Leftrightarrow \vec{OM} = (x; y; z)$. Cho $A(x_A; y_A; z_A)$, $B(x_B; y_B; z_B)$, $C(x_C; y_C; z_C)$, ta có:	
<ul style="list-style-type: none"> $\vec{AB} = (x_B - x_A; y_B - y_A; z_B - z_A)$ 	<ul style="list-style-type: none"> $AB = \sqrt{(x_B - x_A)^2 + (y_B - y_A)^2 + (z_B - z_A)^2}$
<ul style="list-style-type: none"> Toạ độ trung điểm M của đoạn thẳng AB: $M\left(\frac{x_A + x_B}{2}; \frac{y_A + y_B}{2}; \frac{z_A + z_B}{2}\right)$. 	<ul style="list-style-type: none"> Toạ độ trọng tâm G của tam giác ABC: $G\left(\frac{x_A + x_B + x_C}{3}; \frac{y_A + y_B + y_C}{3}; \frac{z_A + z_B + z_C}{3}\right)$.
4. Tích có hướng của hai vectơ:	
☞ Định nghĩa: Cho $\vec{a} = (a_1, a_2, a_3)$, $\vec{b} = (b_1, b_2, b_3)$, tích có hướng của \vec{a} và \vec{b} là:	
$[\vec{a}, \vec{b}] = \begin{vmatrix} a_2 & a_3 \\ b_2 & b_3 \end{vmatrix}; \begin{vmatrix} a_3 & a_1 \\ b_3 & b_1 \end{vmatrix}; \begin{vmatrix} a_1 & a_2 \\ b_1 & b_2 \end{vmatrix} = a_2b_3 - a_3b_2; a_3b_1 - a_1b_3; a_1b_2 - a_2b_1$	
☞ Tính chất:	$[\vec{a}, \vec{b}] \perp \vec{a}$
	$[\vec{a}, \vec{b}] \perp \vec{b}$
	$ [\vec{a}, \vec{b}] = \vec{a} \cdot \vec{b} \cdot \sin \alpha, \vec{a}, \vec{b}$
<ul style="list-style-type: none"> Điều kiện cùng phương của hai vectơ \vec{a} & \vec{b} là $[\vec{a}, \vec{b}] = \vec{0}$ với $\vec{0} = (0; 0; 0)$. 	<ul style="list-style-type: none"> Điều kiện đồng phẳng của ba vectơ \vec{a}, \vec{b} và \vec{c} là $[\vec{a}, \vec{b}] \cdot \vec{c} = 0$.
<ul style="list-style-type: none"> Diện tích hình bình hành $ABCD$: $S_{\square ABCD} = [\vec{AB}, \vec{AD}]$. 	<ul style="list-style-type: none"> Diện tích tam giác ABC: $S_{\triangle ABC} = \frac{1}{2} [\vec{AB}, \vec{AC}]$.
<ul style="list-style-type: none"> Thể tích khối hộp: $V_{ABCD.A'B'C'D'} = [\vec{AB}, \vec{AD}] \cdot \vec{AA'}$. 	<ul style="list-style-type: none"> Thể tích tứ diện: $V_{ABCD} = \frac{1}{6} [\vec{AB}, \vec{AC}] \cdot \vec{AD}$.
5. Phương trình mặt cầu:	
Dạng 1: $(S): (x - a)^2 + (y - b)^2 + (z - c)^2 = R^2$ $\xrightarrow{\text{Mặt cầu (S) có}} \begin{cases} I(a; b; c) \\ R = \sqrt{R^2} \end{cases}$	Dạng 2: $(S): x^2 + y^2 + z^2 - 2ax - 2by - 2cz + d = 0$ $\xrightarrow{\text{Mặt cầu (S) có}} \begin{cases} I(a; b; c) \\ R = \sqrt{a^2 + b^2 + c^2 - d} \end{cases}$
☞ Phương trình $x^2 + y^2 + z^2 - 2ax - 2by - 2cz + d = 0$ là phương trình mặt cầu $\Leftrightarrow a^2 + b^2 + c^2 - d > 0$.	
Bài toán 5.1. Viết phương trình mặt cầu tâm I và đi qua điểm M. <ul style="list-style-type: none"> Bước 1: Tính bán kính $R = IM$. Bước 2: Viết phương trình mặt cầu dạng 1. 	Bài toán 5.2. Viết phương trình mặt cầu có đường kính AB. <ul style="list-style-type: none"> Bước 1: Tìm tâm I là trung điểm AB. Bán kính $R = \frac{AB}{2} = IA = IB$. Bước 2: Viết phương trình mặt cầu dạng 1.
6. Phương trình mặt phẳng:	
	<ul style="list-style-type: none"> Mặt phẳng (P) $\left\{ \begin{array}{l} \text{qua } M(x_0; y_0; z_0) \\ \text{VTPT } \vec{n} = (a; b; c) \end{array} \right.$ thì phương trình $(P): a(x - x_0) + b(y - y_0) + c(z - z_0) = 0$. Ngược lại, một mặt phẳng bất kỳ đều có phương trình dạng $ax + by + cz + d = 0$, mặt phẳng này có VTPT $\vec{n} = (a; b; c)$.
Bài toán 6.1. Viết phương trình mặt phẳng trung trực của đoạn thẳng AB.	Bài toán 6.2. Viết phương trình mặt phẳng đi qua ba điểm A, B, C.

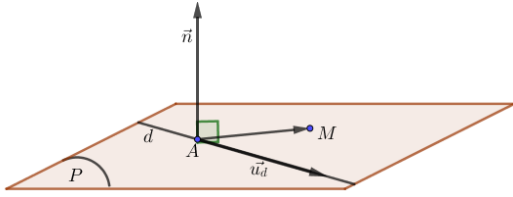


- **Bước 1:** Tìm trung điểm I của đoạn AB và tính tọa độ \overrightarrow{AB} .
- **Bước 2:** Phương trình $mp(P) \left\{ \begin{array}{l} \text{qua } I \\ \text{VTPT } \vec{n} = \overrightarrow{AB} \end{array} \right.$



- **Bước 1:** Tính tọa độ $\overrightarrow{AB}, \overrightarrow{AC}$ và suy ra $[\overrightarrow{AB}, \overrightarrow{AC}]$.
- **Bước 2:** Phương trình $mp(P) \left\{ \begin{array}{l} \text{qua } A \\ \text{VTPT } \vec{n} = [\overrightarrow{AB}, \overrightarrow{AC}] \end{array} \right.$

Bài toán 6.3. Viết phương trình mặt phẳng qua M và chứa đường thẳng d với $M \notin d$.

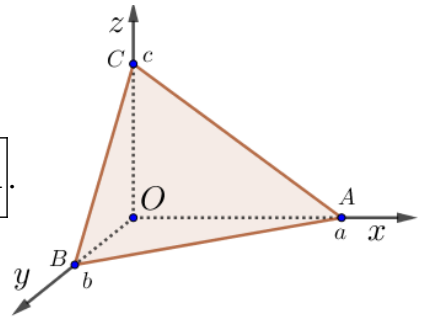


- **Bước 1:** Chọn điểm $A \in d$ và một VTCP \vec{u}_d . Tính $[\overrightarrow{AM}, \vec{u}_d]$.
- **Bước 2:** Phương trình $mp(P) \left\{ \begin{array}{l} \text{qua } M \\ \text{VTPT } \vec{n} = [\overrightarrow{AM}, \vec{u}_d] \end{array} \right.$

Bài toán 6.4. Viết phương trình mặt phẳng cắt Ox, Oy, Oz lần lượt tại $A(a; 0; 0), B(0; b; 0), C(0; 0; c)$ với $a, b, c \neq 0$.

- Phương trình mặt phẳng được viết theo đoạn chắn

$$(P): \frac{x}{a} + \frac{y}{b} + \frac{z}{c} = 1.$$



- Phương trình mặt phẳng được viết theo đoạn chắn

Khoảng cách từ điểm đến mặt phẳng

- Cho $\begin{cases} M(x_0; y_0; z_0) \\ mp(P): ax + by + cz + d = 0 \end{cases}$
- Khi đó: $d(M, (P)) = \frac{|ax_0 + by_0 + cz_0 + d|}{\sqrt{a^2 + b^2 + c^2}}$

Khoảng cách giữa hai mặt phẳng song song

- Cho hai mặt phẳng $\begin{cases} (P): ax + by + cz + d_1 = 0 \\ (Q): ax + by + cz + d_2 = 0 \end{cases}$
- Khi đó: $d((P), (Q)) = \frac{|d_1 - d_2|}{\sqrt{a^2 + b^2 + c^2}}$ với $d_1 \neq d_2$.

Góc giữa hai mặt phẳng

- Cho hai mặt phẳng $(\alpha), (\beta)$ có phương trình: $\begin{cases} (P): a_1x + b_1y + c_1z + d_1 = 0 \\ (Q): a_2x + b_2y + c_2z + d_2 = 0 \end{cases}$
- Góc giữa $(P) \& (Q)$ được tính:

$$\cos((P), (Q)) = \frac{|\vec{n}_P \cdot \vec{n}_Q|}{|\vec{n}_P| \cdot |\vec{n}_Q|} = \frac{|a_1a_2 + b_1b_2 + c_1c_2|}{\sqrt{a_1^2 + b_1^2 + c_1^2} \cdot \sqrt{a_2^2 + b_2^2 + c_2^2}}$$

☞ **Chú ý:** $0^\circ \leq ((P), (Q)) \leq 90^\circ$.

Vị trí tương đối giữa hai mặt phẳng

Cho hai mặt phẳng $(\alpha), (\beta)$ có phương trình:

$$\begin{cases} (P): a_1x + b_1y + c_1z + d_1 = 0 \\ (Q): a_2x + b_2y + c_2z + d_2 = 0 \end{cases} \text{ Ta có:}$$

- $(P) \parallel (Q) \Leftrightarrow \frac{a_1}{a_2} = \frac{b_1}{b_2} = \frac{c_1}{c_2} \neq \frac{d_1}{d_2}$.
- $(P) \equiv (Q) \Leftrightarrow \frac{a_1}{a_2} = \frac{b_1}{b_2} = \frac{c_1}{c_2} = \frac{d_1}{d_2}$.
- $(P) \& (Q)$ cắt nhau $\Leftrightarrow a_1 : b_1 : c_1 \neq a_2 : b_2 : c_2$.
- $(P) \perp (Q) \Leftrightarrow a_1a_2 + b_1b_2 + c_1c_2 = 0$.

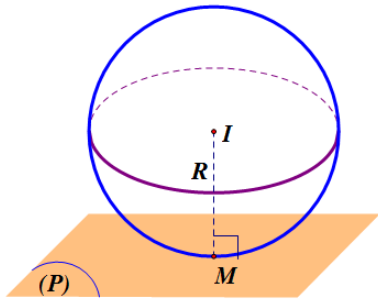
☞ **Lưu ý:** Các tỉ số trên có nghĩa khi mẫu khác 0.

Vị trí tương đối giữa mặt phẳng và mặt cầu

Cho mặt phẳng $(P): ax + by + cz + d = 0$ và mặt cầu (S) có tâm I và bán kính R .

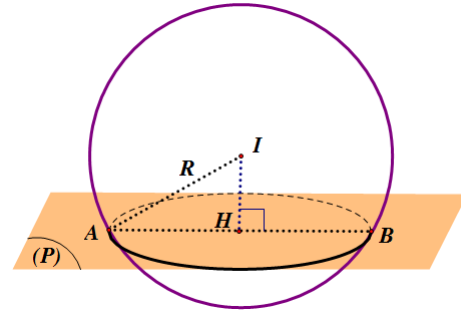
- **Trường hợp 1:** $d(I, (P)) > R \Leftrightarrow (P)$ và (S) không có điểm chung.
- **Trường hợp 2:** $d(I, (P)) = R \Leftrightarrow (P)$ và (S) có
- **Trường hợp 3:** $d(I, (P)) < R \Leftrightarrow (P)$ cắt (S)

một điểm chung. Khi đó ta nói (P) **tiếp xúc** (S) hoặc (P) là **tiếp diện** của (S) .



Ta có: $IM \perp (P)$ với M là tiếp điểm.

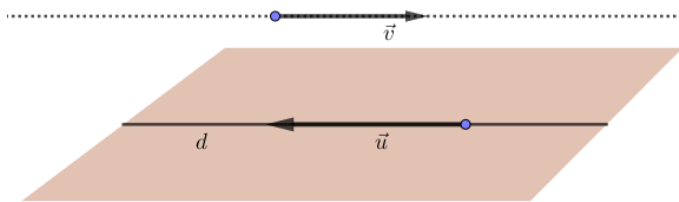
theo **giao tuyến là một đường tròn.**



Đường tròn giao tuyến có tâm H (là trung điểm AB), bán kính $r = \sqrt{R^2 - IH^2}$ với $IH = d(I, (P))$.

7. Phương trình đường thẳng:

Đường thẳng d qua $A(x_A; y_A; z_A)$ có VTCP $\vec{u} = (u_1; u_2; u_3)$ có:



Vectơ chỉ phương (VTCP) của đường thẳng d là vectơ khác $\vec{0}$, có giá nằm trên d hoặc song song với d .

▪ Phương trình tham số d :
$$\begin{cases} x = x_A + u_1 t \\ y = y_A + u_2 t \\ z = z_A + u_3 t \end{cases}$$
 với t là tham số.

▪ Phương trình chính tắc

$$d: \frac{x - x_A}{u_1} = \frac{y - y_A}{u_2} = \frac{z - z_A}{u_3}$$
 với $u_1, u_2, u_3 \neq 0$.

⚠ **Lưu ý:** Nếu có cặp vectơ khác $\vec{0}$ không cùng phương sao cho $\begin{cases} \vec{a} \perp d \\ \vec{b} \perp d \end{cases}$ thì d có VTCP là: $\vec{u}_d = [\vec{a}, \vec{b}]$.

7.1. Vị trí tương đối giữa hai đường thẳng:

Xét vị trí tương đối của hai đường thẳng d_1, d_2 với d_1 qua M VTCP \vec{u}_1 , d_2 qua N VTCP \vec{u}_2 .

Bước I	Bước II	Kết luận
❖ $[\vec{u}_1, \vec{u}_2] = \vec{0} \rightarrow$ Hai đường thẳng d_1, d_2 song song hoặc trùng nhau .	❖ $[\vec{u}_1, \vec{MN}] = \vec{0}$	$\rightarrow d_1 \equiv d_2$ (Hai đường thẳng trùng nhau)
	❖ $[\vec{u}_1, \vec{MN}] \neq \vec{0}$	$\rightarrow d_1 \parallel d_2$
❖ $[\vec{u}_1, \vec{u}_2] \neq \vec{0} \rightarrow$ Hai đường thẳng d_1, d_2 cắt nhau hoặc chéo nhau .	❖ $[\vec{u}_1, \vec{u}_2] \cdot \vec{MN} = 0$	$\rightarrow d_1$ cắt d_2
	❖ $[\vec{u}_1, \vec{u}_2] \cdot \vec{MN} \neq 0$	$\rightarrow d_1$ & d_2 chéo nhau

7.2. Vị trí tương đối giữa đường thẳng và mặt phẳng:

Xét vị trí tương đối giữa đường thẳng $d: \begin{cases} x = x_0 + u_1 t \\ y = y_0 + u_2 t \\ z = z_0 + u_3 t \end{cases}$ và mặt phẳng $(P): ax + by + cz + d = 0$.

Bước I:	Bước II: Giải PT (*), ta gặp 1 trong 3 trường hợp sau	Kết luận
❖ Thay phương trình tham số d vào	❖ PT (*) vô nghiệm	$\rightarrow d \parallel (P)$

phương trình (P), ta được PT (*): $a(x_0 + u_1t) + b(y_0 + u_2t) + c(z_0 + u_3t) + d = 0$	\diamond PT (*) có 1 nghiệm $\begin{cases} x = x_0 \\ y = y_0 \\ z = z_0 \end{cases}$	$\longrightarrow d$ cắt (P) tại điểm có tọa độ $(x_0; y_0; z_0)$.
	\diamond PT (*) có vô số nghiệm	$\longrightarrow d \subset (P)$

7.3. Khoảng cách từ điểm đến đường thẳng:

\hookrightarrow Cho điểm M và đường thẳng d (có phương trình tham số hoặc chính tắc).	<ul style="list-style-type: none"> Bước 1: Chọn điểm $A \in d$ và một VTCP \vec{u}_d. Bước 2: $d(M, d) = \frac{ \overrightarrow{u_d}, \overrightarrow{AM} }{ \vec{u}_d }$.
---	---

7.4. Góc giữa hai đường thẳng:

\hookrightarrow Cho hai đường thẳng d_1, d_2 lần lượt có VTCP là \vec{u}_1, \vec{u}_2 .	\longrightarrow Ta có: $\cos(d_1, d_2) = \frac{ \vec{u}_1 \cdot \vec{u}_2 }{ \vec{u}_1 \cdot \vec{u}_2 }$.
---	---

7.5. Góc giữa đường thẳng và mặt phẳng:

\hookrightarrow Cho đường thẳng d có VTCP \vec{u} và mặt phẳng (P) có VTPT \vec{n} .	\longrightarrow Ta có: $\sin(d, (P)) = \frac{ \vec{u} \cdot \vec{n} }{ \vec{u} \cdot \vec{n} }$.
--	---

8. Hình chiếu và điểm đối xứng:

Bài toán	Phương pháp	
\diamond Tìm hình chiếu của điểm A trên mặt phẳng (P).	\diamond Gọi d là đường thẳng $\begin{cases} \text{qua } A \\ \perp (P) \end{cases} \longrightarrow$ Viết pt tham số của d với VTCP của d cũng là VTPT của (P). \diamond Gọi $H = d \cap (P)$. Thay pt tham số của d vào pt mp (P) ta tìm được tọa độ H.	
\diamond Tìm điểm A' đối xứng với A qua (P).	\diamond Ta có H là trung điểm $AA' \Rightarrow \begin{cases} x_{A'} = 2x_H - x_A \\ y_{A'} = 2y_H - y_A \\ z_{A'} = 2z_H - z_A \end{cases}$	
\diamond Tìm hình chiếu của điểm A trên đường thẳng d.	Cách I	\diamond Gọi H (theo t) (dựa vào pt tham số của d). \diamond $AH \perp d \Leftrightarrow \overrightarrow{AH} \cdot \vec{u}_d = 0 \longrightarrow$ Tìm được $t = \dots \longrightarrow$ Tọa độ H.
	Cách II	\diamond Gọi (P) $\begin{cases} \text{qua } A \\ (P) \perp d \end{cases} \longrightarrow$ Viết pt mp(P). \diamond Gọi $H = d \cap (P)$. Thay pt tham số của d vào pt mp (P) ta tìm được tọa độ H.
\diamond Tìm điểm A' đối xứng với A qua đường thẳng d.	\diamond Ta có H là trung điểm $AA' \Rightarrow \begin{cases} x_{A'} = 2x_H - x_A \\ y_{A'} = 2y_H - y_A \\ z_{A'} = 2z_H - z_A \end{cases}$	

